




Kann ich bündeln und entbündeln?

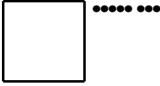


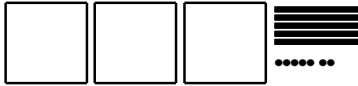

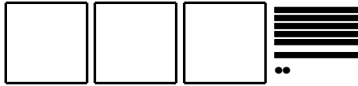
1 Würfelmaterial bündeln und entbündeln

a) Schreibe die Zahl auf, die auf dem Bild dargestellt ist.

Bild	Zahl
	
	
	



b) Tara und Jonas legen ihr Würfelmaterial zusammen.
Wie viel haben sie zusammen? Schreibe die Zahl auf.

Tara	Jonas	Zusammen
		
		
		



H	Z	E
1	11	3

2 Zahlen bündeln und entbündeln

a) Trage in die Stellentafel ein und schreibe die Zahl auf.

	Stellentafel	Zahl								
3 Hunderter, 1 Zehner, 10 Einer	<table border="1"> <tr> <td>T</td> <td>H</td> <td>Z</td> <td>E</td> </tr> <tr> <td></td> <td></td> <td></td> <td></td> </tr> </table>	T	H	Z	E					
T	H	Z	E							
20 Zehner, 4 Einer	<table border="1"> <tr> <td>T</td> <td>H</td> <td>Z</td> <td>E</td> </tr> <tr> <td></td> <td></td> <td></td> <td></td> </tr> </table>	T	H	Z	E					
T	H	Z	E							
2 Hunderter, 42 Zehner, 5 Einer	<table border="1"> <tr> <td>T</td> <td>H</td> <td>Z</td> <td>E</td> </tr> <tr> <td></td> <td></td> <td></td> <td></td> </tr> </table>	T	H	Z	E					
T	H	Z	E							



b) Erkläre deine Lösung zur letzten Aufgabe (2 H, 42 Z, 5 E):

