
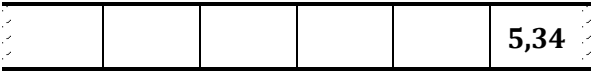
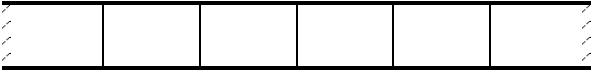
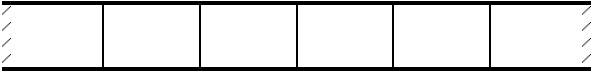

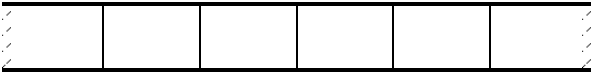
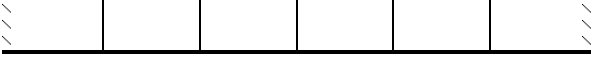
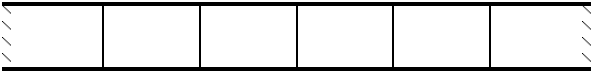




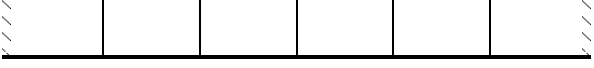




Zu Baustein D2 A, Aufgabe 2.6: Kartensatz

<p>Zähle von 2,3 in Einer-Schritten vorwärts.</p>	
<p>Zähle von 5,34 in Zehntel-Schritten rückwärts.</p>	
<p>Zähle von _____ in _____-Schritten _____.</p>	
<p>Zähle von _____ in _____-Schritten _____.</p>	
<p>Zähle von _____ in _____-Schritten _____.</p>	
<p>Zähle von _____ in _____-Schritten _____.</p>	
<p>Zähle von _____ in _____-Schritten _____.</p>	
<p>Zähle von _____ in _____-Schritten _____.</p>	



Zähle von _____ in _____-Schritten _____.	
Zähle von _____ in _____-Schritten _____.	
Zähle von _____ in _____-Schritten _____.	
Zähle von _____ in _____-Schritten _____.	
Zähle von _____ in _____-Schritten _____.	
Zähle von _____ in _____-Schritten _____.	
Zähle von _____ in _____-Schritten _____.	
Zähle von _____ in _____-Schritten _____.	