

## Aufbau der Stellentafel

H	Z	E

Leonie hat viele Fragen.



Leonie

Wie ist die Stellenwerttafel aufgebaut ?

Was bedeuten die Buchstaben ?

Wie kann ich die Zahlen 1 , 10 und 100 ... eintragen ?

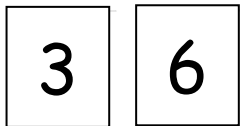


Was weißt du über die Stellenwerttafel ? Tauscht euch aus.

## Zahlen in der Stellentafel



Tara



Mit diesen beiden Ziffernkarten kann ich 2 zweistellige Zahlen legen. Aber welche ist die größere Zahl ?



Jonas

Das kannst du gut in der Stellentafel sehen.

H	Z	E
	3	6

H	Z	E
	6	3



Erkläre, was Jonas meint.

## Zahlen der Größe nach ordnen

a) Ordne die Zahlen nach ihrer Größe. Beginne mit der **kleinsten** Zahl.

67      1. \_\_\_\_\_

57      1. \_\_\_\_\_

66      2. \_\_\_\_\_

51      2. \_\_\_\_\_

76      3. \_\_\_\_\_

15      3. \_\_\_\_\_

71      4. \_\_\_\_\_

71      4. \_\_\_\_\_

16      5. \_\_\_\_\_

55      5. \_\_\_\_\_

13      1. \_\_\_\_\_

48      1. \_\_\_\_\_

59      2. \_\_\_\_\_

82      2. \_\_\_\_\_

35      3. \_\_\_\_\_

44      3. \_\_\_\_\_

53      4. \_\_\_\_\_

24      4. \_\_\_\_\_

93      5. \_\_\_\_\_

88      5. \_\_\_\_\_

31      1. \_\_\_\_\_

93      1. \_\_\_\_\_

24      2. \_\_\_\_\_

69      2. \_\_\_\_\_

22      3. \_\_\_\_\_

63      3. \_\_\_\_\_

32      4. \_\_\_\_\_

90      4. \_\_\_\_\_

20      5. \_\_\_\_\_

33      5. \_\_\_\_\_



b) Wie bist du beim Sortieren vorgegangen ?

## Zahlen bilden

1a) Bilde aus den Ziffern 2 , 5 , 7 alle möglichen zweistelligen Zahlen und schreibe sie auf.

1 b) Ordne die Zahlen. Beginne mit der **größten** Zahl.

2a) Bilde aus den Ziffern 1 , 3 , 6 , 9 alle möglichen zweistelligen Zahlen und schreibe sie auf.


2b) Ordne die Zahlen. Beginne mit der **größten** Zahl.



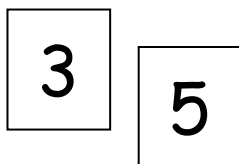
## Zahlen bilden

Ein Kind wählt 2 Ziffernkarten.

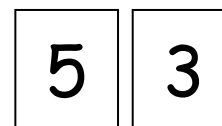
Das andere Kind bildet daraus die **größte** und die **kleinste** Zahl.



Tara

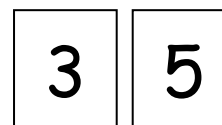


Die **größte** Zahl heißt 53.



Jonas

Die **kleinste** Zahl heißt 35.



Wechselt euch ab.