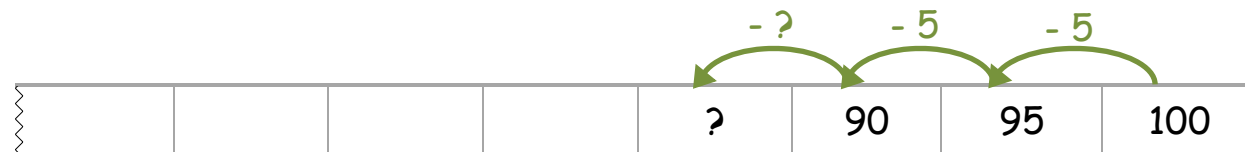


Zahlenreihen finden



Tara

Wie geht die Zahlenreihe weiter ?



Erkläre, wie Tara die fehlenden Zahlen finden kann.

Zahlenreihen finden

Ergänze die Zahlenreihen.

0	5	10					
---	---	----	--	--	--	--	--

					90	92	94
--	--	--	--	--	----	----	----

1	11						
---	----	--	--	--	--	--	--

						43	47
--	--	--	--	--	--	----	----

2		6					16
---	--	---	--	--	--	--	----

6	12			30			48
---	----	--	--	----	--	--	----

Überlege dir, in welchen Schritten man noch zählen kann und erfinde eigene Zahlenreihen.

--	--	--	--	--	--	--	--

--	--	--	--	--	--	--	--

--	--	--	--	--	--	--	--

--	--	--	--	--	--	--	--

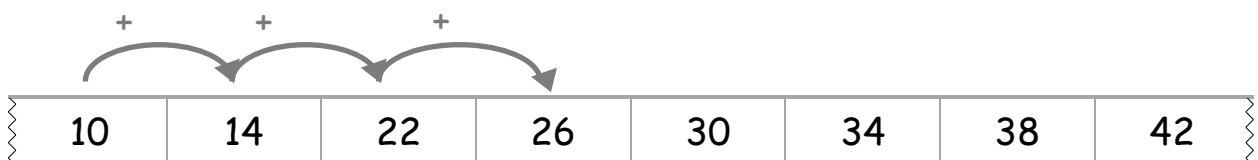
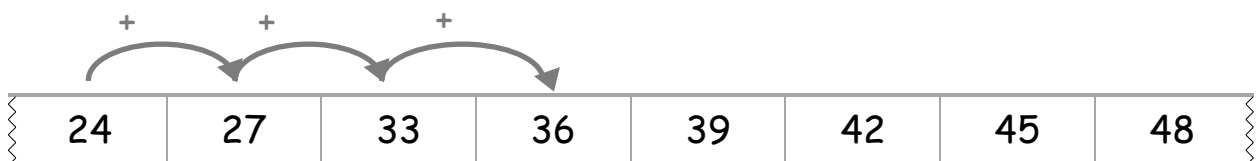

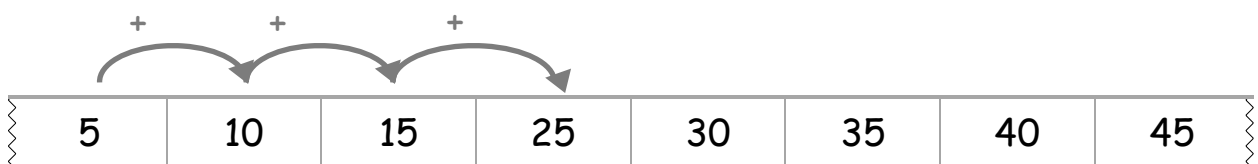
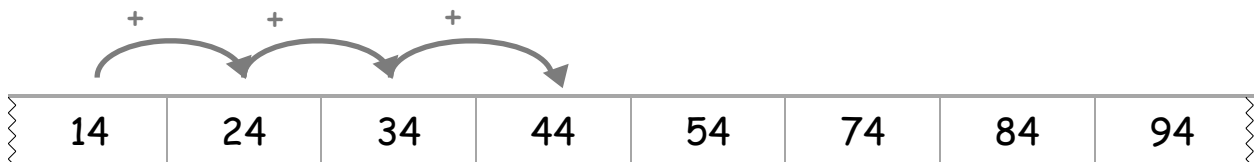
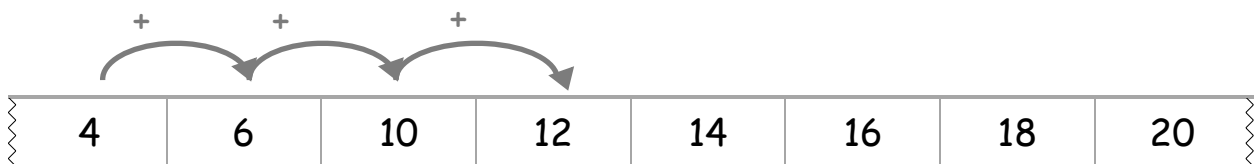
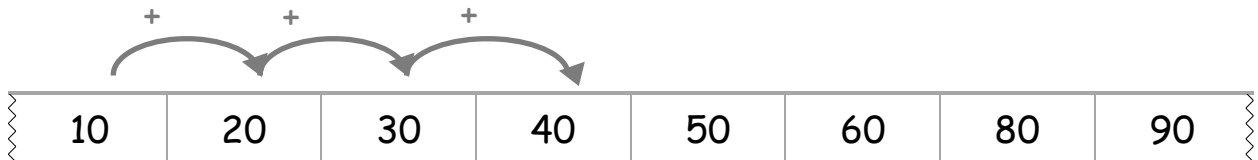
--	--	--	--	--	--	--	--

Einen Fehler finden



An welcher Stelle hat sich bei den Zahlenfolgen ein Fehler eingeschlichen?

Kreise die Zahl ein und begründe.


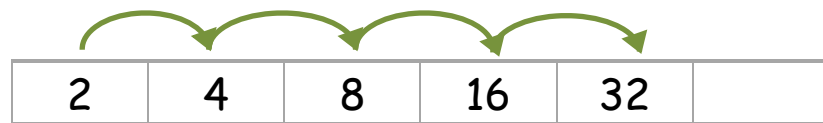


Besondere Zahlenreihen weiterführen

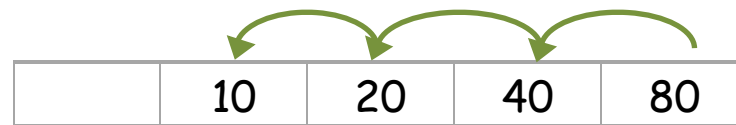
Die Kinder haben sich Zahlenreihen überlegt:



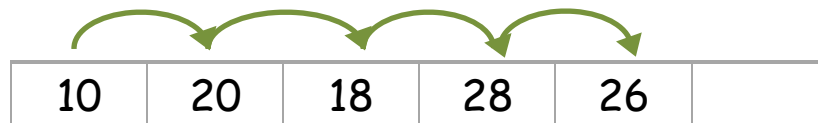
Tara



Rico



Leonie



Wie haben die Kinder die Reihe aufgebaut ?

Welche Zahlen kommen in die freien Kästchen ?



Zahlenreihen erklären

Ein Kind erfindet eine Zahlenreihe.
Das andere Kind erklärt den Aufbau.



Emily


15	20	25	30	35	40	45	50
----	----	----	----	----	----	----	----

Deine Startzahl ist die **15** und du zählst in Fünferschritten vorwärts. Die Zielzahl ist die **50**.



Jonas

Deine Startzahl ist die **50** und du zählst in Fünferschritten rückwärts. Die Zielzahl ist die **15**.



Rico

Wechselt euch ab.

Zahlenreihen

--	--	--	--	--	--	--	--

--	--	--	--	--	--	--	--

--	--	--	--	--	--	--	--

--	--	--	--	--	--	--	--

--	--	--	--	--	--	--	--

--	--	--	--	--	--	--	--

--	--	--	--	--	--	--	--

--	--	--	--	--	--	--	--

--	--	--	--	--	--	--	--

--	--	--	--	--	--	--	--