

Fehler bei der Subtraktion mit der Null


Kenan rechnet die Aufgabe $407 - 235$.
Dabei macht er einen Fehler.



Kenan

$$\begin{array}{r} 407 \\ - 235 \\ \hline 202 \end{array}$$

Lege die Aufgabe doch
noch einmal mit Material.
Dann siehst du den
Fehler.



Rico



Welchen Fehler macht Kenan?

Rechne schriftlich untereinander (1)

Rechne die Aufgaben schriftlich untereinander.
 Schreibe die Überträge dazu.

1)

	H	Z	E
	9	3	4
-	4	0	2

2)

	H	Z	E
	9	0	4
-	4	3	2

3)

	H	Z	E
	5	0	3
-	3	0	4

4)

	H	Z	E
	5	0	4
-	3	0	3

5)

	H	Z	E
	7	5	6
-	6	4	8

6)

	H	Z	E
	7	4	6
-	6	4	8

7)

	H	Z	E
	9	9	2
-	6	0	4

8)

	H	Z	E
	9	9	4
-	6	0	2

Rechne schriftlich untereinander (2)

Schreibe die fehlenden Ziffern in die grauen Kästchen.
 Schreibe die Überträge dazu.

1)

	H	Z	E
	8		3
-	2	0	3
		2	

2)

	H	Z	E
	3		5
-	1		2
	2	0	

3)

	H	Z	E
	7	0	6
-	5		0
		6	

4)

	H	Z	E
	6	0	
-	2	4	5
	3		5

5)

	H	Z	E
	3	1	3
-		0	8
	1		

6)

	H	Z	E
	4	0	4
-	2		8
		9	

7)

	H	Z	E
	3	6	
-		5	9
	3		1

8)

	H	Z	E
	6	3	0
-		5	
	2		5



Rechnen mit Ziffernkarten

Nehmt euch die Ziffernkarten

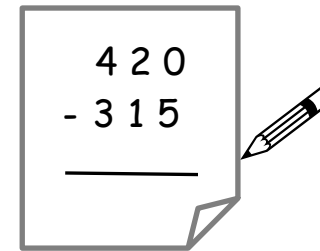
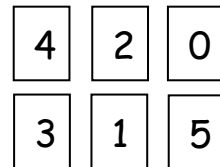


Ein Kind legt **zwei dreistellige** Zahlen.

Das andere Kind schreibt die Rechnung auf und subtrahiert.



Dilara



Emily

Wechselt euch ab.



Findet die Aufgabe mit dem **kleinsten** und **größten Ergebnis**. Wie geht ihr vor ?