

H	Z	E
1	11	3

Zahlen zeichnen

Die Zahl wird **immer um 1 größer**.

Zeichne sie, trage in die Stellentafel ein und schreibe als Zahl.

Bild	Stellentafel	Zahl								
	<table border="1"> <tr> <td>T</td> <td>H</td> <td>Z</td> <td>E</td> </tr> <tr> <td></td> <td>3</td> <td>5</td> <td>8</td> </tr> </table>	T	H	Z	E		3	5	8	358
T	H	Z	E							
	3	5	8							
	<table border="1"> <tr> <td>T</td> <td>H</td> <td>Z</td> <td>E</td> </tr> <tr> <td></td> <td></td> <td></td> <td></td> </tr> </table>	T	H	Z	E					
T	H	Z	E							
	<table border="1"> <tr> <td>T</td> <td>H</td> <td>Z</td> <td>E</td> </tr> <tr> <td></td> <td></td> <td></td> <td></td> </tr> </table>	T	H	Z	E					
T	H	Z	E							
	<table border="1"> <tr> <td>T</td> <td>H</td> <td>Z</td> <td>E</td> </tr> <tr> <td></td> <td></td> <td></td> <td></td> </tr> </table>	T	H	Z	E					
T	H	Z	E							

Die Zahl wird **immer um 10 größer**.


Zeichne sie, trage in die Stellentafel ein und schreibe als Zahl.

Bild	Stellentafel	Zahl								
	<table border="1"> <tr> <td>T</td> <td>H</td> <td>Z</td> <td>E</td> </tr> <tr> <td></td> <td></td> <td></td> <td></td> </tr> </table>	T	H	Z	E					
T	H	Z	E							
	<table border="1"> <tr> <td>T</td> <td>H</td> <td>Z</td> <td>E</td> </tr> <tr> <td></td> <td></td> <td></td> <td></td> </tr> </table>	T	H	Z	E					
T	H	Z	E							
	<table border="1"> <tr> <td>T</td> <td>H</td> <td>Z</td> <td>E</td> </tr> <tr> <td></td> <td></td> <td></td> <td></td> </tr> </table>	T	H	Z	E					
T	H	Z	E							
	<table border="1"> <tr> <td>T</td> <td>H</td> <td>Z</td> <td>E</td> </tr> <tr> <td></td> <td></td> <td></td> <td></td> </tr> </table>	T	H	Z	E					
T	H	Z	E							

H	Z	E
1	11	3

Baustein N1 B
Ich kann bündeln und entbündeln

Tara und Jonas legen jeder eine Zahl. Wie viel haben sie zusammen ?

Tara		Jonas		Zusammen
	16		5	21
				
				
				
				
				

H	Z	E
1	11	3

Baustein N1 B
 Ich kann bündeln und entbündeln

1.3 c

Jeder von euch legt eine Zahl. Wie viel habt ihr zusammen ?

Name _____		Name _____		Zusammen




H	Z	E
1	11	3

Baustein N1 B

Ich kann bündeln und entbündeln

1.6 a

Lege mit Material und tausche. Schreibe das Ergebnis auf.

Ich lege	Ich entbündele	Ich nehme weg	Bild	Ergebnis
1 Zehnerstange 		1 Einerwürfel		9
1 Hunderterplatte		1 Zehnerstange		
1 Hunderterplatte		1 Einerwürfel		
1 Tausenderwürfel		1 Hunderterplatte		
1 Tausenderwürfel		1 Zehnerstange		

H	Z	E
1	11	3

Lege die Zahl mit Würfelmaterial.
Bündele und schreibe die Zahl auf.

T	H	Z	E
	4	5	22

Zahl:

T	H	Z	E
	4	25	2

Zahl:

T	H	Z	E
	6	7	31

Zahl:

T	H	Z	E
	8	19	9

Zahl:



T	H	Z	E
	24	5	2

Zahl:

Erfinde weitere Aufgaben, bei denen man **bündeln** muss.

T	H	Z	E

Zahl:

T	H	Z	E

Zahl:

T	H	Z	E

Zahl:

T	H	Z	E

Zahl:

H	Z	E
1	11	3

Zahlen in der Stellentafel bündeln

Trage in die Stellentafel ein und schreibe als Zahl daneben.
Benutze, wenn nötig, das Würfelmaterial.

	Stellentafel	Zahl								
3 Hunderter, 6 Zehner, 10 Einer	<table border="1"> <tr> <td>T</td> <td>H</td> <td>Z</td> <td>E</td> </tr> <tr> <td></td> <td></td> <td></td> <td></td> </tr> </table>	T	H	Z	E					
T	H	Z	E							
10 Hunderter, 5 Zehner	<table border="1"> <tr> <td>T</td> <td>H</td> <td>Z</td> <td>E</td> </tr> <tr> <td></td> <td></td> <td></td> <td></td> </tr> </table>	T	H	Z	E					
T	H	Z	E							
4 Hunderter, 8 Zehner, 12 Einer	<table border="1"> <tr> <td>T</td> <td>H</td> <td>Z</td> <td>E</td> </tr> <tr> <td></td> <td></td> <td></td> <td></td> </tr> </table>	T	H	Z	E					
T	H	Z	E							
3 Hunderter, 61 Zehner, 4 Einer	<table border="1"> <tr> <td>T</td> <td>H</td> <td>Z</td> <td>E</td> </tr> <tr> <td></td> <td></td> <td></td> <td></td> </tr> </table>	T	H	Z	E					
T	H	Z	E							
5 Hunderter, 23 Zehner, 9 Einer	<table border="1"> <tr> <td>T</td> <td>H</td> <td>Z</td> <td>E</td> </tr> <tr> <td></td> <td></td> <td></td> <td></td> </tr> </table>	T	H	Z	E					
T	H	Z	E							
12 Hunderter, 4 Einer	<table border="1"> <tr> <td>T</td> <td>H</td> <td>Z</td> <td>E</td> </tr> <tr> <td></td> <td></td> <td></td> <td></td> </tr> </table>	T	H	Z	E					
T	H	Z	E							
17 Hunderter, 6 Zehner	<table border="1"> <tr> <td>T</td> <td>H</td> <td>Z</td> <td>E</td> </tr> <tr> <td></td> <td></td> <td></td> <td></td> </tr> </table>	T	H	Z	E					
T	H	Z	E							
10 Hunderter, 10 Einer	<table border="1"> <tr> <td>T</td> <td>H</td> <td>Z</td> <td>E</td> </tr> <tr> <td></td> <td></td> <td></td> <td></td> </tr> </table>	T	H	Z	E					
T	H	Z	E							
2 Hunderter, 20 Einer, 20 Einer	<table border="1"> <tr> <td>T</td> <td>H</td> <td>Z</td> <td>E</td> </tr> <tr> <td></td> <td></td> <td></td> <td></td> </tr> </table>	T	H	Z	E					
T	H	Z	E							



Beschreibe, wie du vorgehst, wenn du Zahlen aus der Stellentafel bündelst.