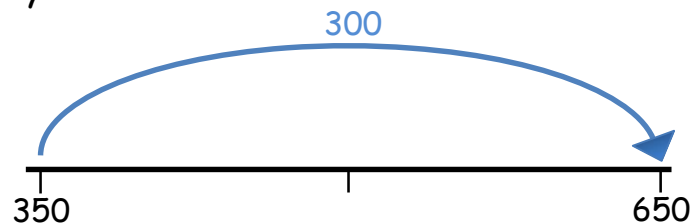


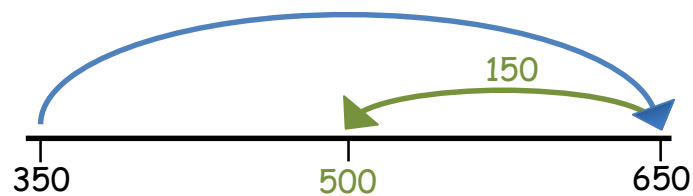
Die Mitte finden

Emily, Kenan und Jonas haben die Mitte am Zahlenstrahl so gefunden:

Emily:



300 halbieren

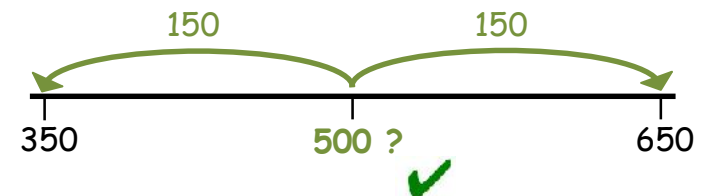
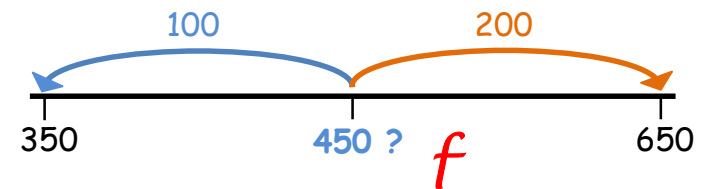


Jonas:

$$350 + 650 = 1\ 000$$

$$1\ 000 : 2 = 500$$

Kenan probiert:

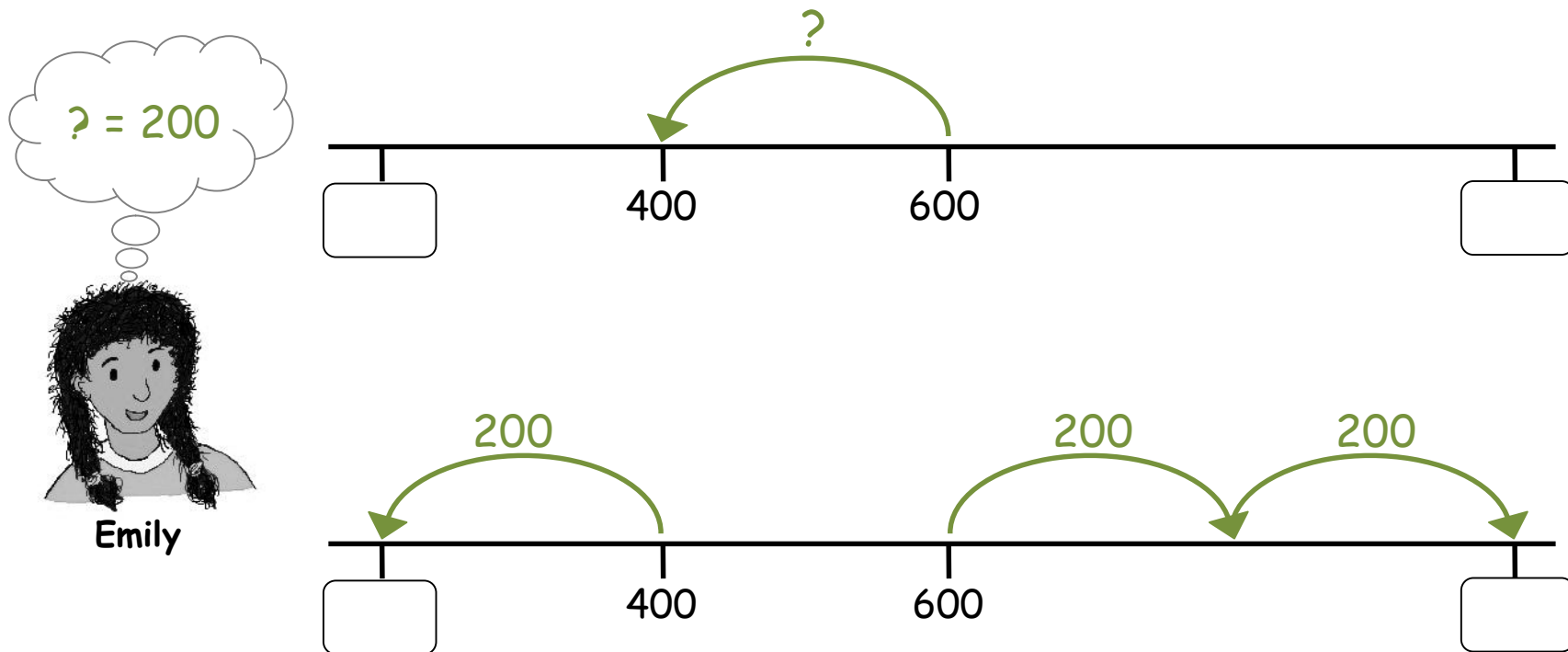


Beschreibe, wie die Kinder vorgehen.

Welche Unterschiede gibt es zwischen den Lösungswegen?

Anfangszahl und Endzahl finden

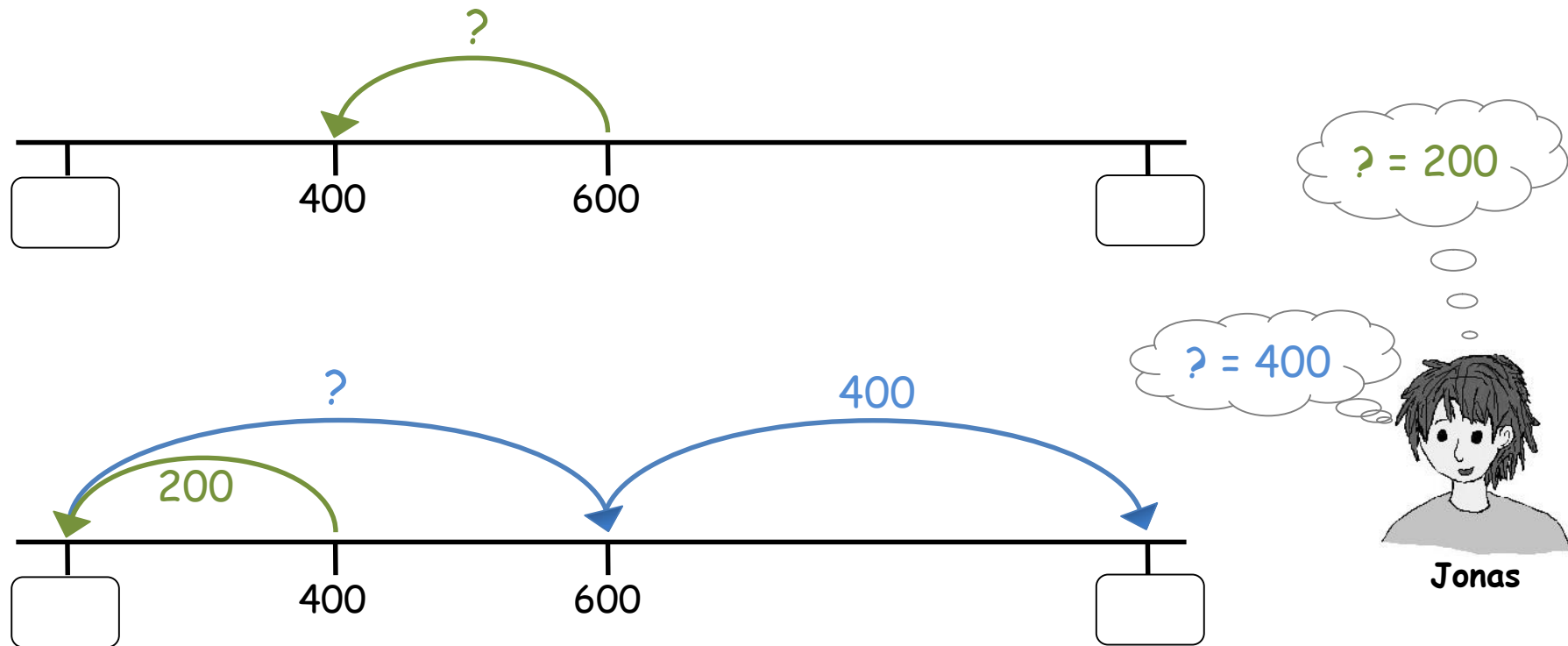
So findet Emily die **Anfangszahl** und die **Endzahl** am Zahlenstrahl:



Wie gehst du vor ?

Anfangszahl und Endzahl finden

So findet Jonas die **Anfangszahl** und die **Endzahl** am Zahlenstrahl:



 Wie gehst du vor ?

Zahlen vergleichen



Tara

Ich kann mir nie merken,
welches Zeichen für „ist größer als“ steht :
> oder <



Wie merkst du dir, welches Zeichen für diesen Vergleich steht ?
Kannst du Tara einen Tipp geben ?

Richtig oder falsch ?



Tara

Es gibt eine **dreistellige Zahl**,
die größer als 999 ist.



Jonas

Es gibt eine **vierstellige Zahl**,
deren Vorgänger die Zahl 1000 ist.



Tim

Die kleinste **dreistellige Zahl**
hat 3 Nullen.



Wer hat Recht ? Begründe.

Zahlen in der Stellentafel

M	HT	ZT	T	H	Z	E

Leonie hat viele Fragen.



Leonie

Wie ist die Stellenwerttafel aufgebaut ?

Was bedeuten die Buchstaben ?

Wie kann ich die Zahlen 10 , 100 und 1 000 ...
eintragen ?



Was weißt du über die Stellenwerttafel ? Tauscht euch aus.



Zahlen in der Stellentafel

Ein Kind nennt eine Zahl. Die Zahl darf drei oder vier Stellen haben.
Das andere Kind legt die Zahl mit den Ziffernkarten in die Stellentafel.



Tara

Die Zahl heißt 362.



Jonas

M	HT	ZT	T	H	Z	E
				3	6	2


Wechselt euch ab.



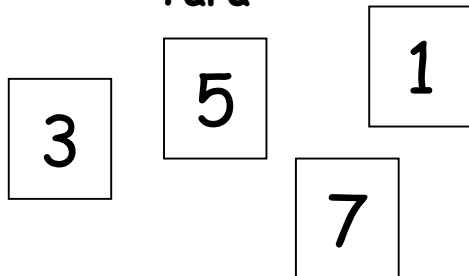
Zahlen bilden

Ein Kind wählt 4 Ziffernkarten.

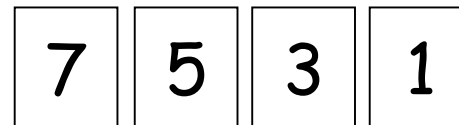
Das andere Kind bildet daraus die **größte** und die **kleinste** Zahl.



Tara

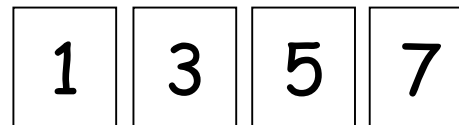


Die **größte** Zahl heißt 7531.



Jonas

Die **kleinste** Zahl heißt 1357.



Wechselt euch ab.