

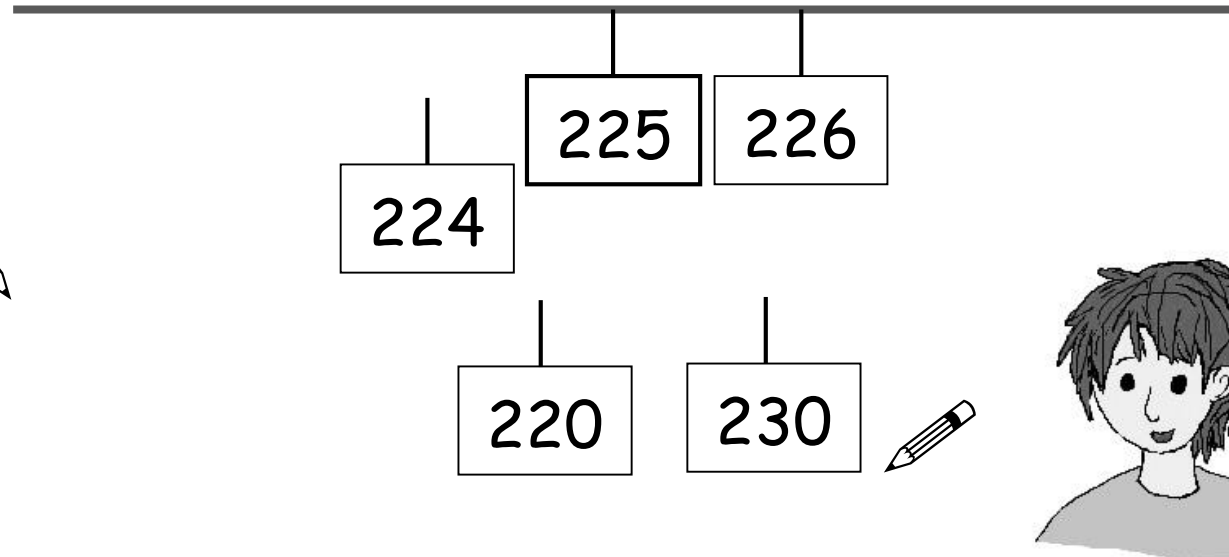


Nachbarzahlen am Zahlenstrahl

Ein Kind beschriftet eine leere Karte und hängt sie an das Zahlenband.
Das andere Kind schreibt die passenden **Nachbar-Einer** und **Nachbar-Zehner** auf
und hängt sie dazu.




Emily




Wechselt euch ab.

Besondere Nachbar-Zehner



Rico

Der **Nachbar-Zehner** von 96 ist nicht 100, sondern 110. 100 ist ein **Nachbar-Hunderter**!



Tara

100 ist doch auch ein **Nachbar-Zehner**.



Wie könnte man Rico zeigen, dass 100 auch ein **Nachbar-Zehner** sein kann ?



Zahlenrätsel lösen

Ein Kind stellt ein Zahlenrätsel.
Das andere Kind nennt die Lösung.



Emily

Der Nachfolger der Zahl heißt 480.

Die Zahl heißt: **479**



Jonas

Wechselt euch ab.



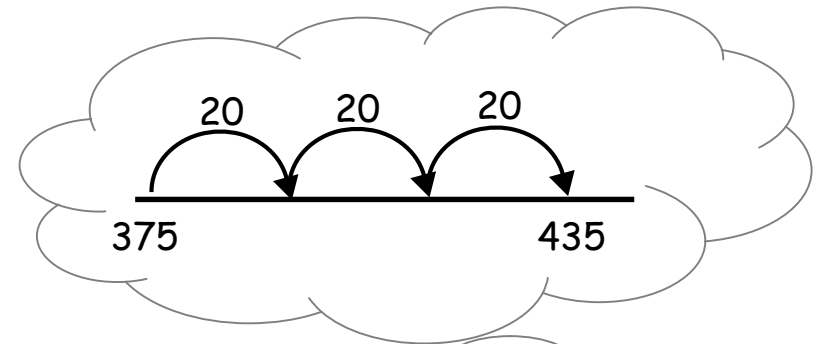
Zahlenrätsel

Ein Kind nennt eine Startzahl und die Größe der Schritte.
Das andere Kind nennt die Zielzahl nach drei Schritten.

Die Startzahl heißt **375**.
Zähle in **Zwanzigerschritten**
drei Schritte weiter.



Emily




Die Zahl heißt: **435**



Jonas

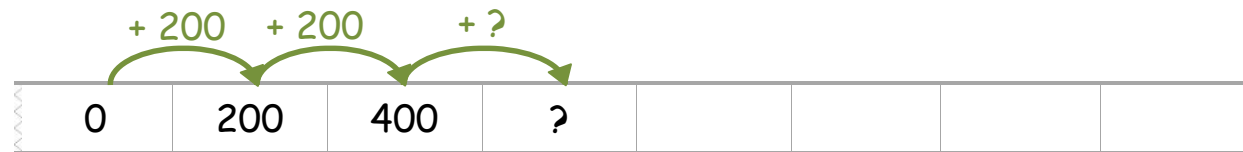
Wechselt euch ab.

Zahlenreihen finden



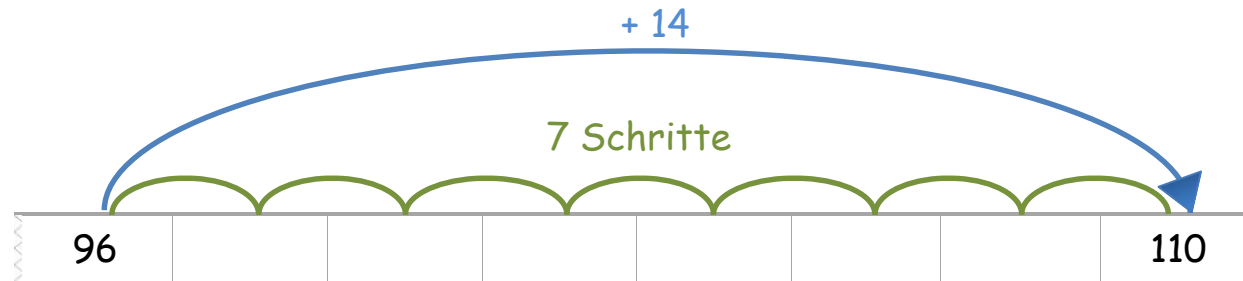
Tara

Wie geht die Zahlenreihe weiter ?



Erkläre, wie Tara die fehlenden Zahlen finden kann.

Zahlenreihen finden



Rico

Zwischen 96 und 100 beträgt der **Unterschied 14**.
Es sind **7 Schritte**.



Erkläre, wie man die Schritte bestimmt, in denen gezählt worden ist.
Wie gehst du vor, wenn nur die Start- und die Endzahl angegeben sind ?

Zahlenreihen weiterführen

Die Kinder haben sich Zahlenreihen überlegt:



Tara

20	40	80	160	320	
----	----	----	-----	-----	--



Rico

	250	500	1 000	2 000	4 000
--	-----	-----	-------	-------	-------



Leonie

100	200	180	280	260	
-----	-----	-----	-----	-----	--



Wie haben die Kinder die Reihe aufgebaut ?

Welche Zahlen kommen in die freien Kästchen ?



Zahlenreihen

Ein Kind erfindet eine Zahlenreihe.
Das andere Kind erklärt den Aufbau.



Emily


145	150	155	160	165	170	175	180
-----	-----	-----	-----	-----	-----	-----	-----

Deine **Startzahl** ist die **145** und du zählst in Fünferschritten vorwärts.
Die **Zielzahl** ist die **180**.



Jonas

Deine **Startzahl** ist die **180** und du zählst in Fünferschritten rückwärts.
Die **Zielzahl** ist die **145**.



Rico

Wechselt euch ab.