

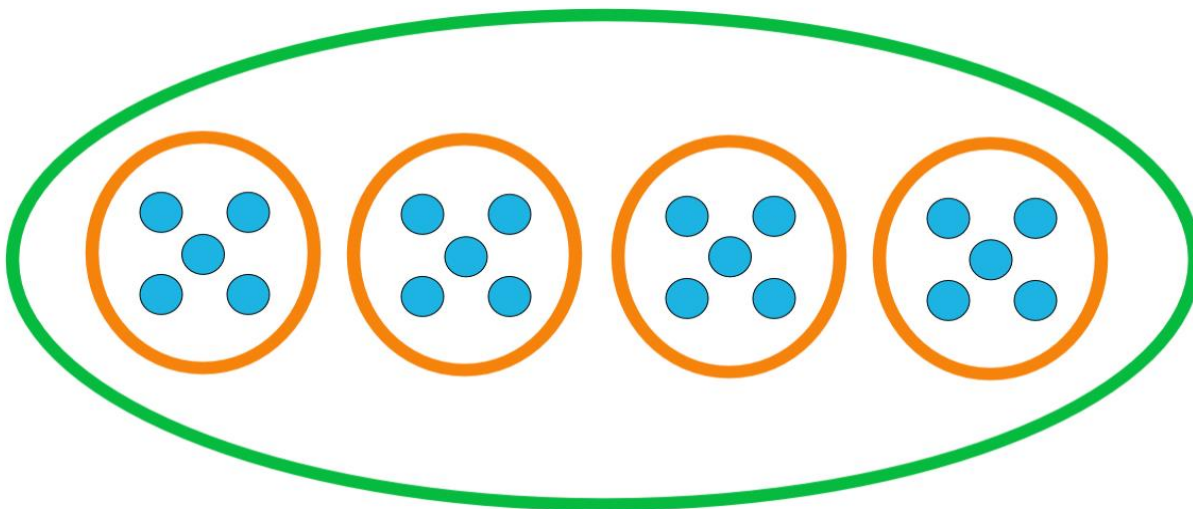
## Verteilen

Es sind  
20 ... insgesamt.

Es sind  
4 Gruppen.


Wie viele sind  
in einer Gruppe ?

$$20 : 4 = 5$$



In einer Gruppe sind  
5 ....

Es sind  
4 **Fünfer-Gruppen**.



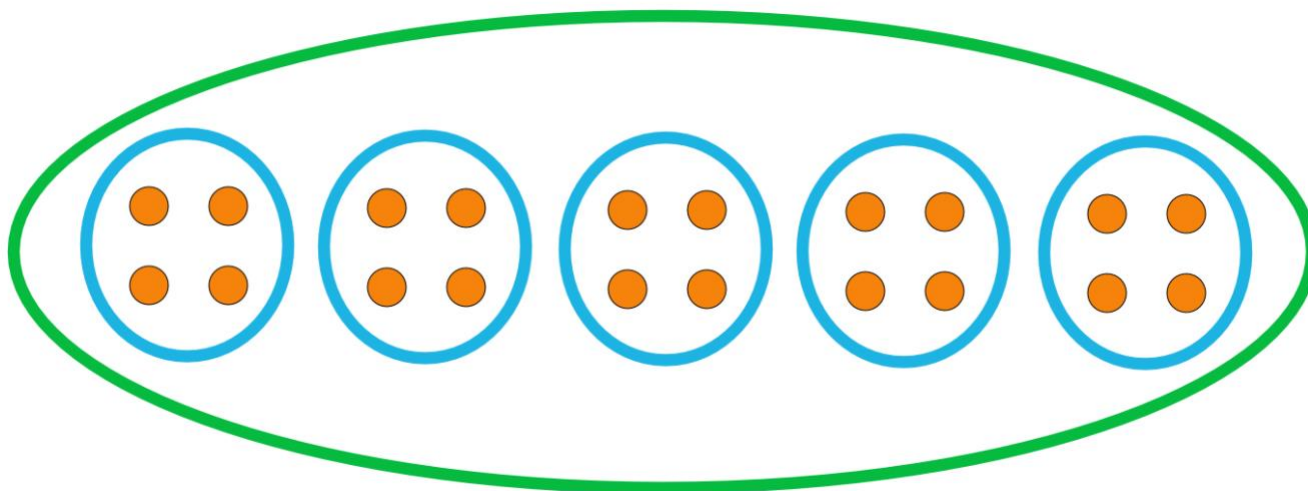
## Aufteilen

Es sind  
20 ... insgesamt.

Es sind  
**Vierer-Gruppen.**

Wie viele Gruppen  
sind es ?

$$20 : 4 = 5$$



Es sind  
**5 Vierer-Gruppen.**



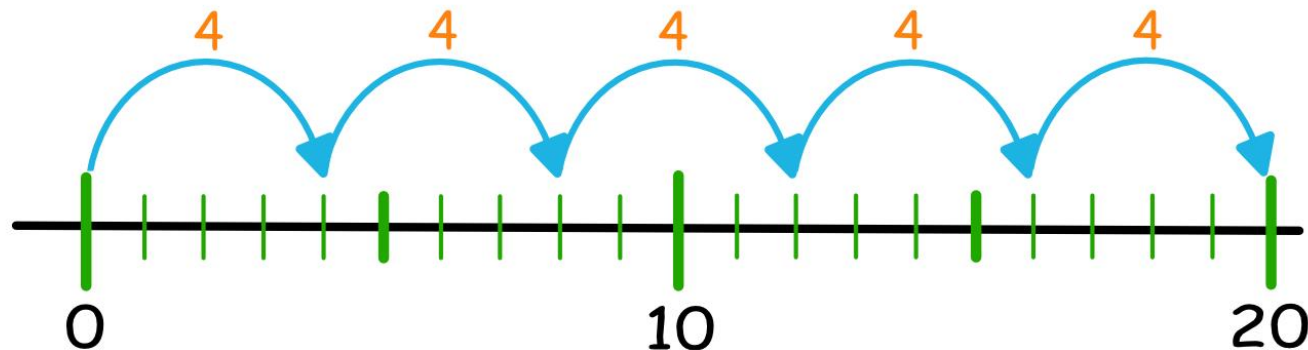
## Division am Zahlenstrahl

Es sind  
20 insgesamt.

Es sind  
**Vierer-Sprünge**.

Wie viele Sprünge  
sind es ?

$$20 : 4 = 5$$



Es sind  
**5 Vierer-Sprünge**.