




Kann ich bündeln und entbündeln ?






1 Würfelmaterial bündeln und entbündeln

a) Schreibe die Zahl auf, die auf dem Bild dargestellt ist.

Bild	Zahl
	
	
	



b) Tara und Jonas legen ihr Würfelmaterial zusammen.
Wie viel haben sie zusammen ? Schreibe die Zahl auf.

Tara	Jonas	Zusammen
		
		
		



H	Z	E
	6	7

2 Zahlen bündeln und entbündeln

a) Trage in die Stellentafel ein und schreibe die Zahl auf.

	Stellentafel	Zahl						
1 Zehner, 10 Einer	<table border="1"> <tr> <td>H</td> <td>Z</td> <td>E</td> </tr> <tr> <td></td> <td></td> <td></td> </tr> </table>	H	Z	E				
H	Z	E						
4 Zehner, 4 Einer	<table border="1"> <tr> <td>H</td> <td>Z</td> <td>E</td> </tr> <tr> <td></td> <td></td> <td></td> </tr> </table>	H	Z	E				
H	Z	E						
5 Zehner, 15 Einer	<table border="1"> <tr> <td>H</td> <td>Z</td> <td>E</td> </tr> <tr> <td></td> <td></td> <td></td> </tr> </table>	H	Z	E				
H	Z	E						



b) Erkläre deine Lösung zur letzten Aufgabe (5 Zehner, 15 Einer):

