



Zahlen aus Würfelmaterial

Stellt euch gegenseitig Fragen zum Würfelmaterial.

Wie viele _____
brauchst du,
um _____
nachzubauen ?



Emily






Zahlen legen

Stellt euch gegenseitig Aufgaben:
Ein Kind legt eine Zahl aus **5 Teilen**.
Das andere Kind sagt die Zahl.



Emily



Die Zahl heißt: **14**



Jonas

Wechselt euch ab.



Welche Zahlen lassen sich mit 5 Teilen **nicht** legen? Findet einige.



Baustein N1 A

Ich kann Zahlen mit Material lesen und darstellen

1.3 a/b

Welche Zahlen sind es ?

Bild	Zahl
	348

Lege die Zahlen mit dem Material. Zeichne sie dann auf.

Zahl	Bild
165	
303	
401	



Zahlen zeichnen

Stellt euch gegenseitig Aufgaben:

Ein Kind nennt die Zahl, das andere Kind zeichnet die Zahl auf.

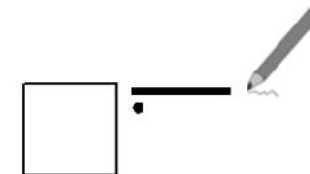


Emily

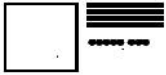
Die Zahl heißt: **111**



Jonas



Wechselt euch ab.




Baustein N1 A

Ich kann Zahlen mit Material lesen und darstellen

1.3 c

Zahlen zeichnen

Zahl	Bild
159	



Nimm **Hunderterplatten**, **Zehnerstangen** und **Einerwürfel**:
Zeichne und schreibe Zahlen, die du mit **3 Teilen** legen kannst.

 12	



Habt ihr alle gefunden? Sortiert gemeinsam. Welche ist die größte / die kleinste Zahl?



Welche ist die **größte Zahl**, die du mit **4 Teilen** legen kannst ?
Zeichne sie auf und erkläre, warum es keine größere geben kann.

Welche ist die **kleinste Zahl**, die du mit **4 Teilen** legen kannst ?
Zeichne sie auf und erkläre, warum es keine kleinere geben kann.