

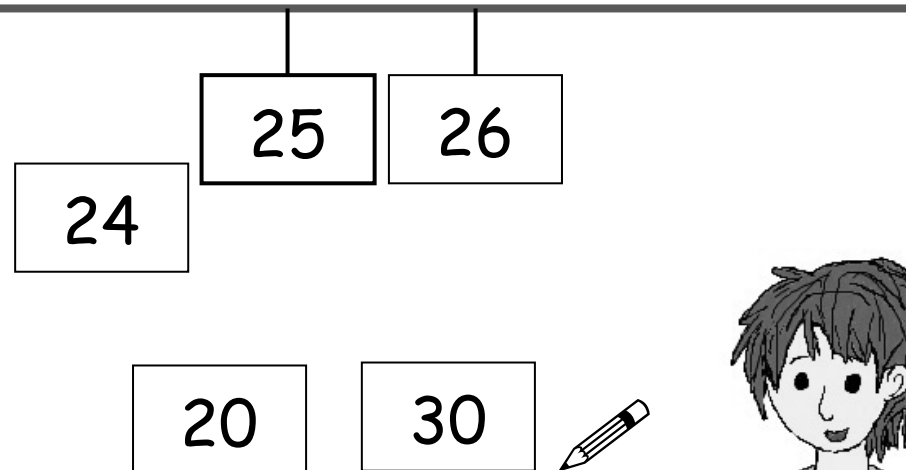


## Nachbarzahlen am Rechenstrich

Ein Kind beschriftet eine leere Karte und hängt sie an das Zahlenband.  
Das andere Kind schreibt die passenden Nachbar-Einer und Nachbar-Zehner auf  
und hängt sie dazu.



Emily



Jonas

Wechselt euch ab.

## Zahlen eintragen und einsortieren


a) Zwischen welchen beiden Einern steht die Zahl ? Trage ein.

kleinerer Nachbar-Einer	ZAHL	größerer Nachbar-Einer
20	21	22
	27	
	30	
	52	
	71	
	98	

b) Zwischen welchen beiden Einern und Zehnern steht die Zahl ?  
Trage ein.


kleinerer Nachbar- Zehner	kleinerer Nachbar- Einer	ZAHL	größerer Nachbar- Einer	größerer Nachbar- Zehner
10	12	13	14	20
		42		
		55		
		65		
		85		

## Besondere Nachbar-Zehner



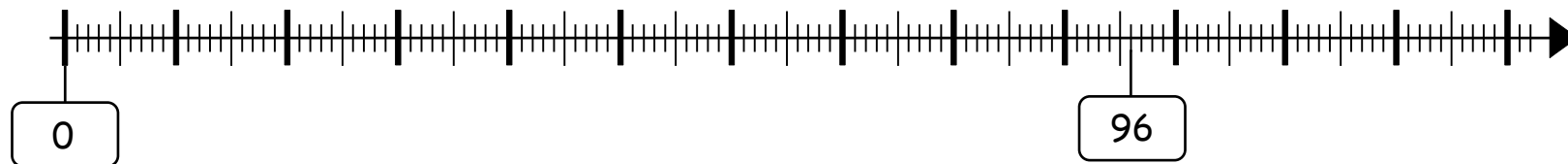
Rico

Der Nachbar-Zehner von 96  
ist nicht 100, sondern 110.  
100 ist ein Nachbar-Hunderter!



Tara

100 ist doch auch ein Nachbar-Zehner.



Wie könnte man Rico zeigen, dass 100 auch ein Nachbar-Zehner sein kann?

## Zahlenrätsel

Wie heißen die Zahlen ? Schreibe sie auf.



Tara


Der Nachfolger der Zahl heißt 48.

Der Vorgänger der Zahl heißt 24.

---



---



Rico

Die Zahl liegt zwischen 50 und 60.  
Die Zahl hat 8 Einer.

Die Zahl liegt zwischen 72 und 80.  
Die Zahl hat 4 Einer.

---



---



Leonie

Die Zahl liegt zwischen 8 und 17.  
Die Zahl ist kleiner als 12.

Die Zahl liegt zwischen 42 und 52.  
Die Zahl ist größer als 48.

---



---



Was fällt dir bei Leonies Zahlen auf ?  
Warum ist das so ?



## Zahlenrätsel lösen

Ein Kind stellt ein Zahlenrätsel.  
Das andere Kind nennt die Lösung.



Emily

Der Nachfolger der Zahl heißt 48.



Die Zahl heißt: 47



Jonas

Wechselt euch ab.

## Zahlenrätsel

A large empty rectangular box with a jagged left edge, intended for a number puzzle.A large empty rectangular box with a jagged left edge, intended for a number puzzle.A large empty rectangular box with a jagged left edge, intended for a number puzzle.A large empty rectangular box with a jagged left edge, intended for a number puzzle.