

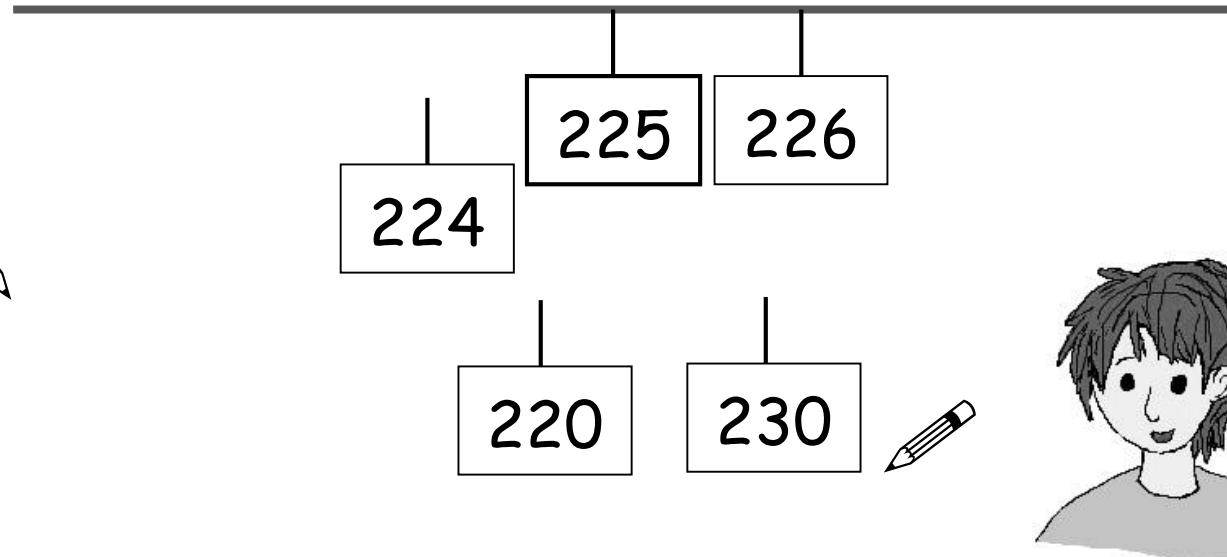


Nachbarzahlen am Zahlenstrahl

Ein Kind beschriftet eine leere Karte und hängt sie an das Zahlenband.
Das andere Kind schreibt die passenden **Nachbar-Einer** und **Nachbar-Zehner** auf
und hängt sie dazu.



Emily



Wechselt euch ab.

Zahlen eintragen und einsortieren


a) Zwischen welchen beiden Einern steht die Zahl ? Trage ein.

kleinerer Nachbar-Einer	ZAHL	größerer Nachbar-Einer
20	21	22
	99	
	309	
	524	
	710	
	999	

b) Zwischen welchen beiden Zehnern und Hundertern steht die Zahl ?
Trage ein.


kleinerer Nachbar- Hunderter	kleinerer Nachbar- Zehner	ZAHL	größerer Nachbar- Zehner	größerer Nachbar- Hunderter
100	130	134	140	200
		400		
		710		
		856		
		991		

Besondere Nachbar-Zehner



Rico

Der **Nachbar-Zehner** von 96 ist nicht 100, sondern 110. 100 ist ein **Nachbar-Hunderter**!



Tara

100 ist doch auch ein **Nachbar-Zehner**.



Wie könnte man Rico zeigen, dass 100 auch ein **Nachbar-Zehner** sein kann ?

Zahlenrätsel

Wie heißen die Zahlen ? Schreibe sie auf.



Tara

Der Nachfolger der Zahl heißt 480.

Der Vorgänger der Zahl heißt 244.



Rico

Die Zahl liegt zwischen 590 und 600.
Die Zahl hat 8 Einer.

Die Zahl liegt zwischen 792 und 800.
Die Zahl hat 4 Einer.



Leonie

Die Zahl liegt zwischen 108 und 117.
Die Zahl ist kleiner als 112.

Die Zahl liegt zwischen 942 und 952.
Die Zahl ist größer als 948.



d) Was fällt dir bei Leonies Zahlen auf ?
Warum ist das so ?



Zahlenrätsel lösen

Ein Kind stellt ein Zahlenrätsel.
Das andere Kind nennt die Lösung.



Emily

Der Nachfolger der Zahl heißt 480.

Die Zahl heißt: **479**



Jonas

Wechselt euch ab.

Zahlenrätsel

