

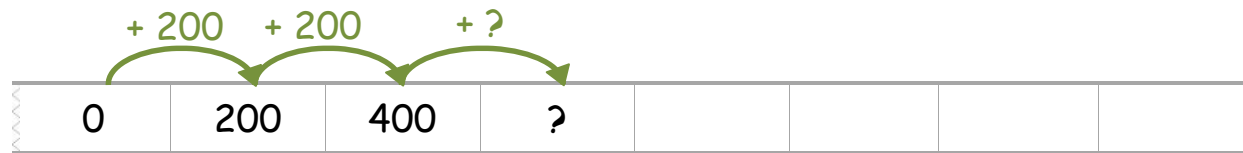


Zahlenreihen finden



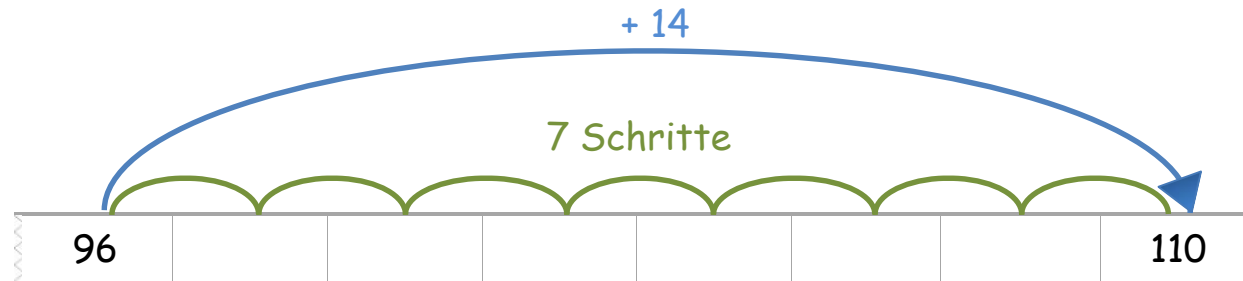
Tara

Wie geht die Zahlenreihe weiter ?



Erkläre, wie Tara die fehlenden Zahlen finden kann.

Zahlenreihen finden



Rico

Zwischen 96 und 100 beträgt der **Unterschied 14**.
Es sind **7 Schritte**.



Erkläre, wie man die Schritte bestimmt, in denen gezählt worden ist.
Wie gehst du vor, wenn nur die Start- und die Endzahl angegeben sind ?

Zahlenreihen finden

a) Ergänze die Zahlenreihen.

0	500	1 000					
---	-----	-------	--	--	--	--	--

					901	1 001	1 101
--	--	--	--	--	-----	-------	-------

1 001	1 011						
-------	-------	--	--	--	--	--	--

						847	947
--	--	--	--	--	--	-----	-----

20		60					160
----	--	----	--	--	--	--	-----

96							110
----	--	--	--	--	--	--	-----

c) Überlege dir, in welchen Schritten man noch zählen kann und erfinde eigene Zahlenreihen.

--	--	--	--	--	--	--	--

--	--	--	--	--	--	--	--

--	--	--	--	--	--	--	--

--	--	--	--	--	--	--	--

--	--	--	--	--	--	--	--

Einen Fehler finden



An welcher Stelle hat sich bei den Zahlenfolgen ein Fehler eingeschlichen?

Kreise die Zahl ein und begründe.

100	300	500	700	900	1200	1400	1600
-----	-----	-----	-----	-----	------	------	------

240	340	440	540	640	840	940	1040
-----	-----	-----	-----	-----	-----	-----	------

225	250	275	295	320	345	370	395
-----	-----	-----	-----	-----	-----	-----	-----

511	522	533	544	555	666	677	688
-----	-----	-----	-----	-----	-----	-----	-----

452	454	455	457	459	461	463	465
-----	-----	-----	-----	-----	-----	-----	-----

101	202	303	404	505	707	808	909
-----	-----	-----	-----	-----	-----	-----	-----

514	521	528	535	542	549	957	564
-----	-----	-----	-----	-----	-----	-----	-----

219	329	439	549	669	779	889	999
-----	-----	-----	-----	-----	-----	-----	-----

1 250	2 250	3 250	4 250	5 550	6 250	7 250	8 250
-------	-------	-------	-------	-------	-------	-------	-------

1 008	1 016	1 024	1 032	1 040	1 058	1 066	1 074
-------	-------	-------	-------	-------	-------	-------	-------

1 030	1 060	1 100	1 130	1 160	1 190	1 220	1 250
-------	-------	-------	-------	-------	-------	-------	-------

Zahlenreihen weiterführen

Die Kinder haben sich Zahlenreihen überlegt:



Tara

20	40	80	160	320	
----	----	----	-----	-----	--



Rico

	250	500	1 000	2 000	4 000
--	-----	-----	-------	-------	-------



Leonie

100	200	180	280	260	
-----	-----	-----	-----	-----	--



Wie haben die Kinder die Reihe aufgebaut ?

Welche Zahlen kommen in die freien Kästchen ?



Zahlenreihen

Ein Kind erfindet eine Zahlenreihe.
Das andere Kind erklärt den Aufbau.



Emily

145	150	155	160	165	170	175	180
-----	-----	-----	-----	-----	-----	-----	-----

Deine **Startzahl** ist die **145** und du zählst in Fünferschritten vorwärts.
Die **Zielzahl** ist die **180**.



Jonas

Deine **Startzahl** ist die **180** und du zählst in Fünferschritten rückwärts.
Die **Zielzahl** ist die **145**.



Rico

Wechselt euch ab.

9047

Zahlenreihen

--	--	--	--	--	--	--	--

--	--	--	--	--	--	--	--

--	--	--	--	--	--	--	--

--	--	--	--	--	--	--	--

--	--	--	--	--	--	--	--

--	--	--	--	--	--	--	--

--	--	--	--	--	--	--	--

--	--	--	--	--	--	--	--

--	--	--	--	--	--	--	--

--	--	--	--	--	--	--	--