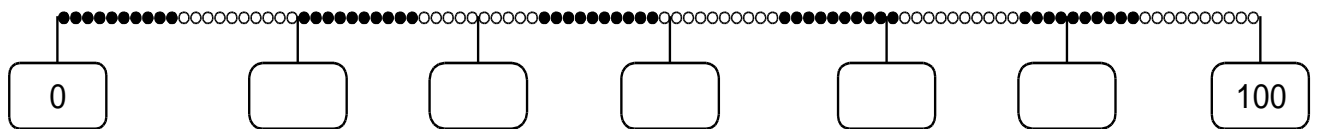


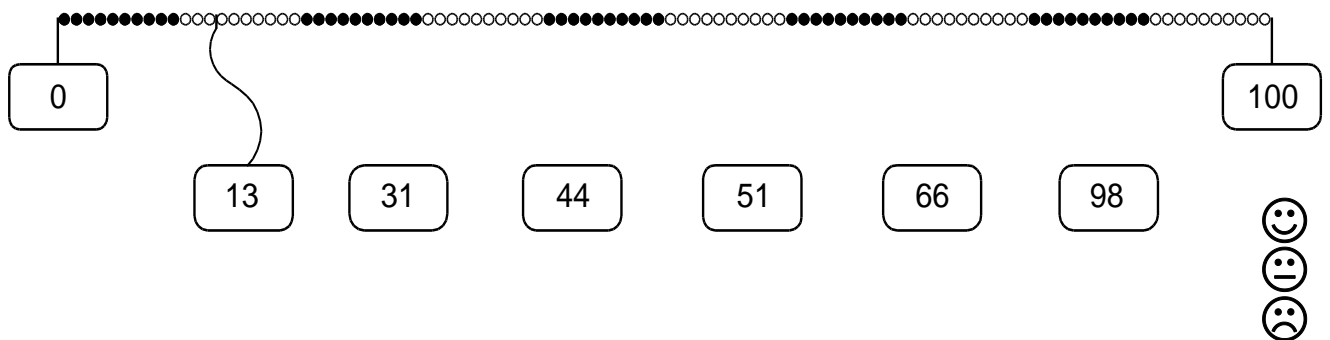
Kann ich Zahlen am Zahlenstrahl lesen und darstellen ?

1 Zahlen an der Hunderterkette

a) Trage die passenden Zahlen ein.

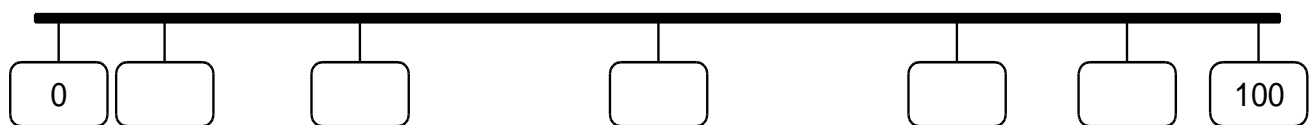


b) Verbinde die Karten mit den richtigen Stellen an der Hunderterkette.

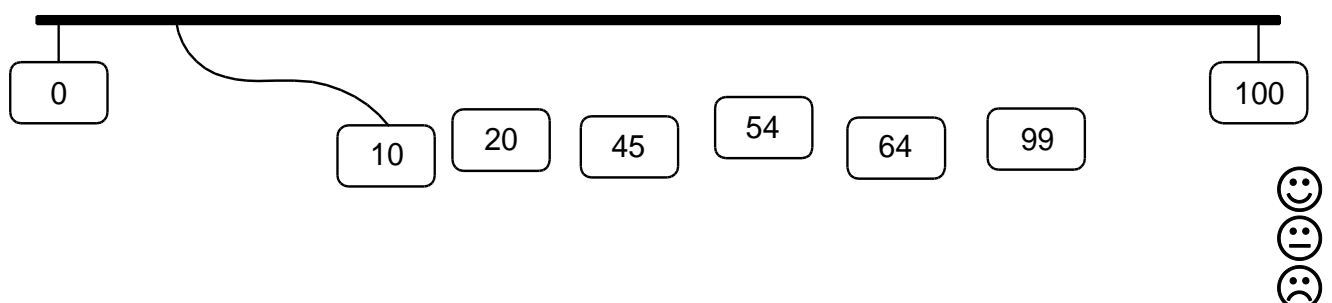


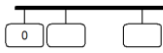
2 Zahlen am Zahlenstrahl

a) Welche Zahlen passen ? Trage sie ein.



b) Wo liegen die Zahlen **ungefähr** am Zahlenstrahl. Verbinde die Karten mit dem Zahlenstrahl.



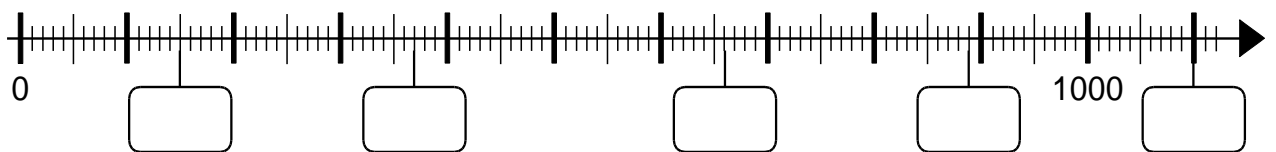


- c) Beschreibe, wie du in **Aufgabe b)** die richtige Stelle für die **Zahl 99** am Zahlenstrahl gefunden hast.



3 Skalierungen am Zahlenstrahl

- a) Trage die passenden Zahlen auf dem Tausenderstrahl ein.



- b) Verbinde die Karten mit den richtigen Stellen auf dem Tausenderstrahl.

